
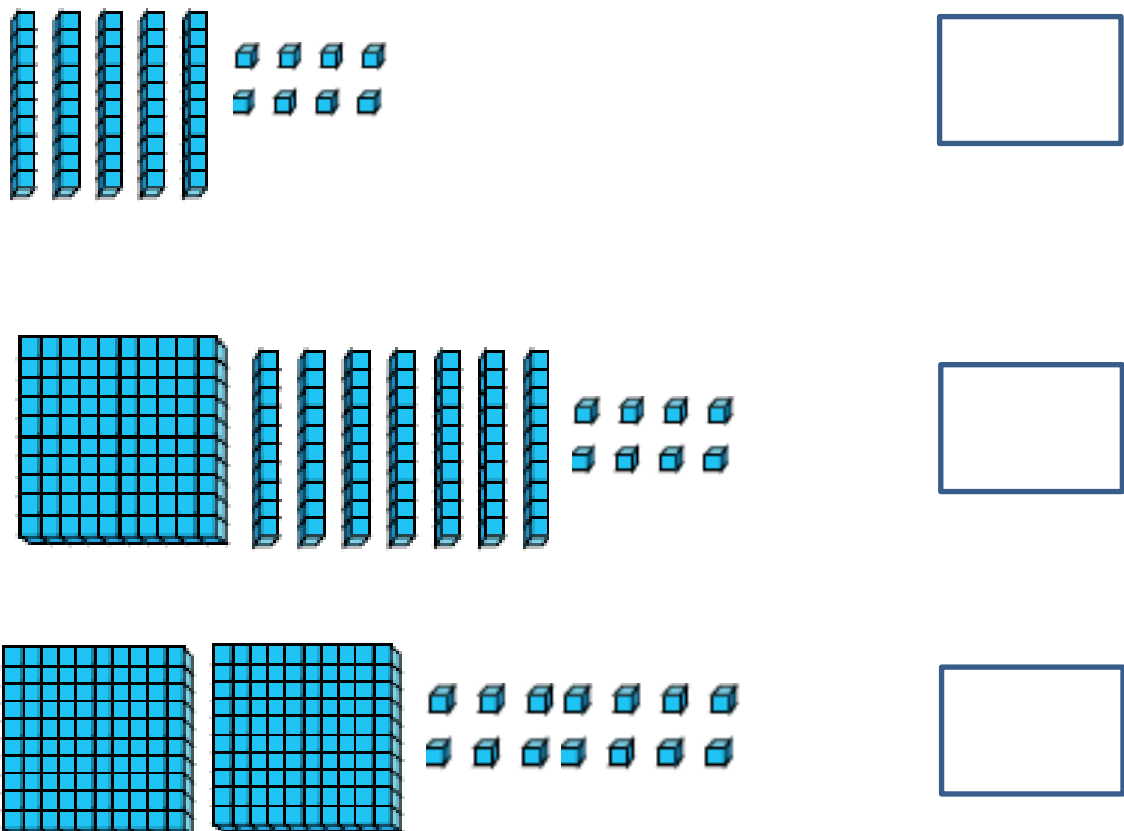










УПРАЖНЕНИЯ ДЛЯ АТТЕСТАЦИИ ВО 2 КЛАССЕ

(Для детей, которые будут учиться в 3 классе)

1	<p>Заполни на основе закономерности.</p> 
2	<p>Напиши числа, соответствующие блокам Дьенеша.</p> 

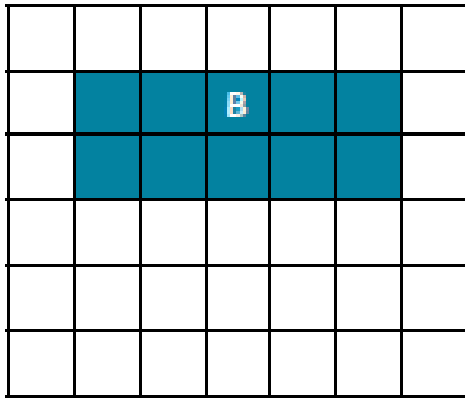
3	<p>Поставь числа по порядку, начиная с наименьшего.</p> <p style="text-align: center;">47 51 25 54</p> <p style="text-align: center;"> <input type="text"/> < <input type="text"/> < <input type="text"/> < <input type="text"/> </p>									
4	<p>Заполни.</p> <table style="width: 100%; border-collapse: collapse;"> <tr> <td style="text-align: center; width: 33%;">$10 + 4 =$ <input style="width: 60px; height: 25px;" type="text"/></td> <td style="text-align: center; width: 33%;">$3 + 6 =$ <input style="width: 60px; height: 25px;" type="text"/></td> <td style="text-align: center; width: 33%;">$8 - 6 =$ <input style="width: 60px; height: 25px;" type="text"/></td> </tr> <tr> <td style="text-align: center;">$17 - 4 =$ <input style="width: 60px; height: 25px;" type="text"/></td> <td style="text-align: center;">$8 + 6 =$ <input style="width: 60px; height: 25px;" type="text"/></td> <td style="text-align: center;">$9 +$ <input style="width: 60px; height: 25px;" type="text"/> $= 18$</td> </tr> <tr> <td style="text-align: center;">$39 + 36 =$ <input style="width: 60px; height: 25px;" type="text"/></td> <td style="text-align: center;">$92 - 8 =$ <input style="width: 60px; height: 25px;" type="text"/></td> <td style="text-align: center;">$45 +$ <input style="width: 60px; height: 25px;" type="text"/> $= 62$</td> </tr> </table>	$10 + 4 =$ <input style="width: 60px; height: 25px;" type="text"/>	$3 + 6 =$ <input style="width: 60px; height: 25px;" type="text"/>	$8 - 6 =$ <input style="width: 60px; height: 25px;" type="text"/>	$17 - 4 =$ <input style="width: 60px; height: 25px;" type="text"/>	$8 + 6 =$ <input style="width: 60px; height: 25px;" type="text"/>	$9 +$ <input style="width: 60px; height: 25px;" type="text"/> $= 18$	$39 + 36 =$ <input style="width: 60px; height: 25px;" type="text"/>	$92 - 8 =$ <input style="width: 60px; height: 25px;" type="text"/>	$45 +$ <input style="width: 60px; height: 25px;" type="text"/> $= 62$
$10 + 4 =$ <input style="width: 60px; height: 25px;" type="text"/>	$3 + 6 =$ <input style="width: 60px; height: 25px;" type="text"/>	$8 - 6 =$ <input style="width: 60px; height: 25px;" type="text"/>								
$17 - 4 =$ <input style="width: 60px; height: 25px;" type="text"/>	$8 + 6 =$ <input style="width: 60px; height: 25px;" type="text"/>	$9 +$ <input style="width: 60px; height: 25px;" type="text"/> $= 18$								
$39 + 36 =$ <input style="width: 60px; height: 25px;" type="text"/>	$92 - 8 =$ <input style="width: 60px; height: 25px;" type="text"/>	$45 +$ <input style="width: 60px; height: 25px;" type="text"/> $= 62$								
5	<p>Найди результат.</p> <table style="width: 100%; text-align: center;"> <tr> <td style="width: 50%;"> $\begin{array}{r} 32 \\ + 45 \\ \hline \end{array}$ </td> <td style="width: 50%;"> $\begin{array}{r} 56 \\ + 28 \\ \hline \end{array}$ </td> </tr> </table>	$\begin{array}{r} 32 \\ + 45 \\ \hline \end{array}$	$\begin{array}{r} 56 \\ + 28 \\ \hline \end{array}$							
$\begin{array}{r} 32 \\ + 45 \\ \hline \end{array}$	$\begin{array}{r} 56 \\ + 28 \\ \hline \end{array}$									
6	<p>Обведи в кружок карточки, результат которых равен 700.</p> <table style="width: 100%; text-align: center; border-collapse: collapse;"> <tr> <td style="border: 1px solid black; padding: 5px; width: 33%;">$300 + 400$</td> <td style="border: 1px solid black; padding: 5px; width: 33%;">$100 + 600$</td> <td style="border: 1px solid black; padding: 5px; width: 33%;">$700 - 400$</td> </tr> <tr> <td style="border: 1px solid black; padding: 5px;">$900 - 700$</td> <td style="border: 1px solid black; padding: 5px;">$800 - 100$</td> <td style="border: 1px solid black; padding: 5px;">$500 + 200$</td> </tr> </table>	$300 + 400$	$100 + 600$	$700 - 400$	$900 - 700$	$800 - 100$	$500 + 200$			
$300 + 400$	$100 + 600$	$700 - 400$								
$900 - 700$	$800 - 100$	$500 + 200$								

7	<p>Обведи в кружок правильную математическую задачу.</p> <p>У Йоргоса было 25 евро. Он купил игрушку и уплатил 17 евро. Сколько денег у него соталось?</p> <p>А. <input type="text" value="25 + 17 ="/></p> <p>В. <input type="text" value="25 - 17 ="/></p> <p>Г. <input type="text" value="25 X 17 ="/></p>
8	<p>Реши задачу.</p> <p>У Иоанны 10 евро. Каждая тетрадь стоит 2 евро. Сколько тетрадей она может купить?</p> <p style="text-align: right;"><input type="text" value="Ответ"/></p>
9	<p>Реши задачу.</p> <p>В кошельке у Элины 75 евро. Она купила книгу, которая стоит 6 евро и игрушку, которая стоит 8 евро. Сколько денег у неё осталось?</p> <p style="text-align: right;"><input type="text" value="Ответ"/></p>
10	<p>Обведи в кружок фигуры, у которых окрашена $\frac{1}{2}$ их поверхности.</p> <p>А. </p> <p>В. </p> <p>Г. </p> <p>Δ. </p>

<p>11</p>	<p>Заполни.</p> <p> $2 \times 4 = \square$ $3 \times 5 = \square$ $6 \times 10 = \square$ $3 \times 3 = \square$ $4 \times \square = 24$ $5 \times \square = 30$ $15 \div 3 = \square$ $25 \div 5 = \square$ $36 \div \square = 6$ </p>
<p>12</p>	<p>Соедини изображение купюр с их стоимостью.</p> <div style="display: flex; align-items: center; justify-content: space-around;"> <div data-bbox="212 1032 903 1424" style="border: 1px solid black; padding: 10px;">  </div> <div style="text-align: center;"> <div data-bbox="1042 976 1270 1106" style="border: 1px solid black; padding: 10px; width: 100px; height: 50px; margin-bottom: 20px;">€3</div> <div data-bbox="1042 1173 1270 1303" style="border: 1px solid black; padding: 10px; width: 100px; height: 50px; margin-bottom: 20px;">€50</div> <div data-bbox="1042 1370 1270 1500" style="border: 1px solid black; padding: 10px; width: 100px; height: 50px;">€5</div> </div> </div>
<p>13</p>	<p>Обведи в кружок предмет, вес которого больше 1 кг.</p> <div style="display: flex; justify-content: space-around; align-items: center; text-align: center;"> <div data-bbox="244 1731 552 1872">  </div> <div data-bbox="628 1686 970 1877">  </div> <div data-bbox="1137 1675 1414 1872">  </div> </div>

14

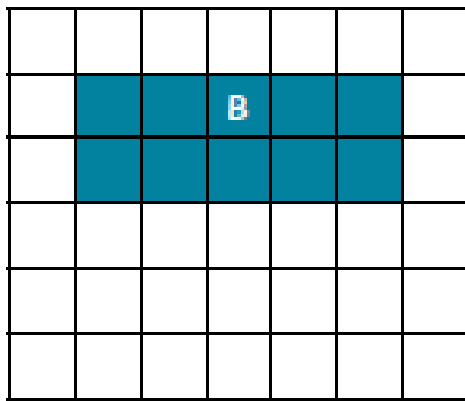
Сколько единиц измерения у периметра фигуры В?



Ответ:

15

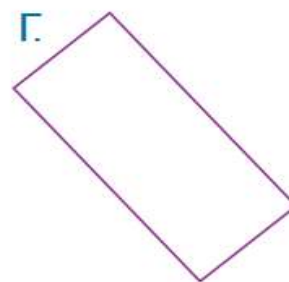
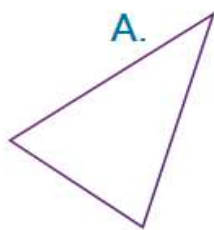
Сколько квадратных единиц составляют площадь фигуры В?



Ответ:

16

Заполни таблицу.



	Название фигуры	Количество сторон	Количество углов
A			
B			
Г			

