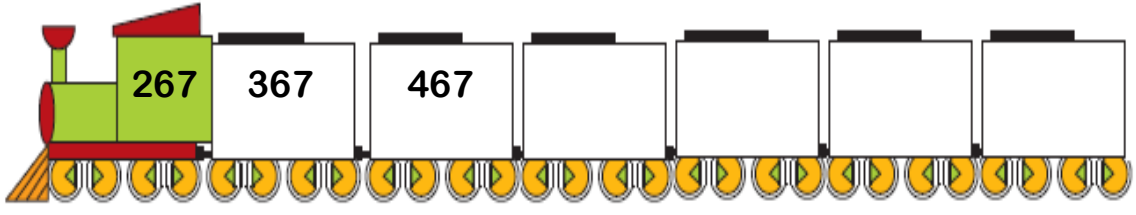
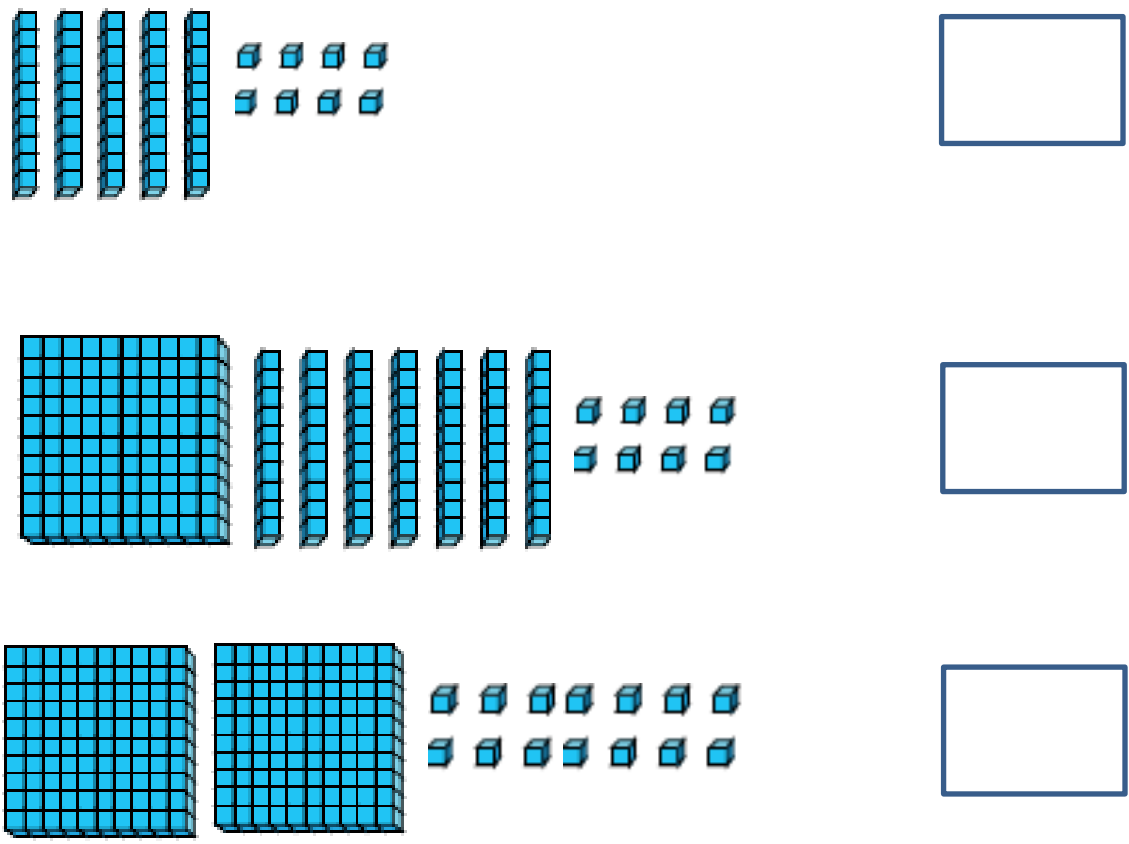


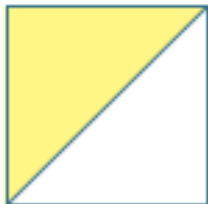







ΔΟΚΙΜΙΟ Β' ΤΑΞΗΣ

(Για παιδιά που θα φοιτήσουν στη Γ' τάξη)

<p>1</p>	<p>Να συμπληρώσεις το μοτίβο.</p> 
<p>2</p>	<p>Να γράψεις τους αριθμούς που παρουσιάζουν οι κύβοι Dienes.</p> 

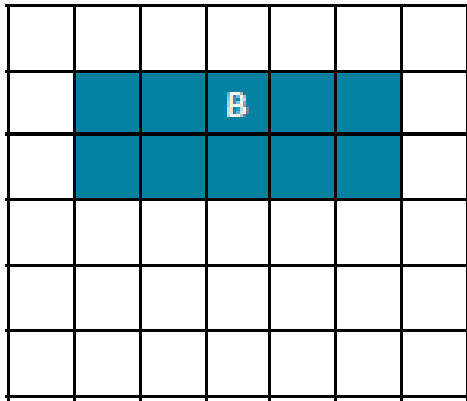
3	<p>Να βάλεις τους αριθμούς σε σειρά, αρχίζοντας από τον μικρότερο.</p> <p style="text-align: center;">47 51 25 54</p> <p style="text-align: center;"> <input type="text"/> < <input type="text"/> < <input type="text"/> < <input type="text"/> </p>
4	<p>Να συμπληρώσεις.</p> <p> $10 + 4 =$ <input type="text"/> $3 + 6 =$ <input type="text"/> $8 - 6 =$ <input type="text"/> </p> <p> $17 - 4 =$ <input type="text"/> $8 + 6 =$ <input type="text"/> $9 +$ <input type="text"/> $= 18$ </p> <p> $39 + 36 =$ <input type="text"/> $92 - 8 =$ <input type="text"/> $45 +$ <input type="text"/> $= 62$ </p>
5	<p>Να βρεις το αποτέλεσμα.</p> <p style="text-align: center;"> $\begin{array}{r} 32 \\ + 45 \\ \hline \end{array}$ </p> <p style="text-align: center;"> $\begin{array}{r} 56 \\ + 28 \\ \hline \end{array}$ </p>
6	<p>Να βάλεις σε κύκλο τις κάρτες που έχουν αποτέλεσμα 700.</p> <p style="text-align: center;"> <input type="text" value="300 + 400"/> <input type="text" value="100 + 600"/> <input type="text" value="700 - 400"/> </p> <p style="text-align: center;"> <input type="text" value="900 - 700"/> <input type="text" value="800 - 100"/> <input type="text" value="500 + 200"/> </p>

7	<p>Να βάλεις σε κύκλο την ορθή μαθηματική πρόταση.</p> <p>Ο Γιώργος είχε 25 ευρώ. Αγόρασε ένα παιχνίδι και πλήρωσε 17ευρώ. Πόσα χρήματα του έμειναν;</p> <p>A. <input type="text" value="25 + 17 ="/> B. <input type="text" value="25 - 17 ="/> Γ. <input type="text" value="25 X 17 ="/></p>
8	<p>Να λύσεις το πρόβλημα.</p> <p>Η Ιωάννα έχει €10. Κάθε τετράδιο στοιχίζει €2. Πόσα τετράδια μπορεί να αγοράσει;</p> <p style="text-align: right;"><input type="text" value="Απάντηση"/></p>
9	<p>Να λύσεις το πρόβλημα.</p> <p>Η Ελίνα έχει στο πορτοφόλι της €75 ευρώ. Αγόρασε ένα βιβλίο που στοιχίζει €7 και ένα παιχνίδι που στοιχίζει €8. Πόσα χρήματα της έμειναν;</p> <p style="text-align: right;"><input type="text" value="Απάντηση"/></p>
10	<p>Να βάλεις σε κύκλο τα σχήματα που έχουν χρωματισμένο το $\frac{1}{2}$ της επιφάνειάς τους.</p> <p>A.  B.  Γ.  Δ. </p>

<p>11</p>	<p>Να συμπληρώσεις.</p> $2 \times 4 = \square \quad 3 \times 5 = \square \quad 6 \times 10 = \square$ $3 \times 3 = \square \quad 4 \times \square = 24 \quad 5 \times \square = 30$ $15 \div 3 = \square \quad 25 \div 5 = \square \quad 36 \div \square = 6$
<p>12</p>	<p>Να αντιστοιχίσεις τα χαρτονομίσματα με την αξία τους.</p> <div style="display: flex; align-items: center; justify-content: space-around;"> <div data-bbox="212 1032 903 1424" style="border: 1px solid black; padding: 5px;">  </div> <div style="text-align: center;"> <div data-bbox="1042 976 1270 1106" style="border: 1px solid black; padding: 10px; width: 60px; margin-bottom: 20px;">€3</div> <div data-bbox="1042 1173 1270 1303" style="border: 1px solid black; padding: 10px; width: 60px; margin-bottom: 20px;">€50</div> <div data-bbox="1042 1370 1270 1500" style="border: 1px solid black; padding: 10px; width: 60px;">€5</div> </div> </div>
<p>13</p>	<p>Να βάλεις σε κύκλο το αντικείμενο που ζυγίζει περισσότερο από 1 kg.</p> <div style="display: flex; justify-content: space-around; align-items: center; text-align: center;"> <div data-bbox="244 1731 552 1872">  </div> <div data-bbox="632 1686 970 1877">  </div> <div data-bbox="1139 1675 1414 1872">  </div> </div>

14

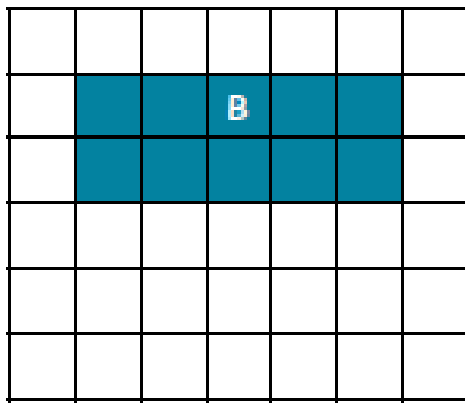
Πόσες μονάδες είναι η περίμετρος του σχήματος Β;



Απάντηση:

15


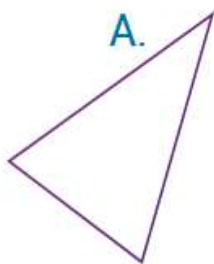
Πόσες τετραγωνικές μονάδες είναι το εμβαδόν του σχήματος Β;



Απάντηση:

16

Να συμπληρώσεις τον πίνακα.



	Όνομα σχήματος	Αριθμός πλευρών	Αριθμός γωνιών
A			
B			
Γ			

