
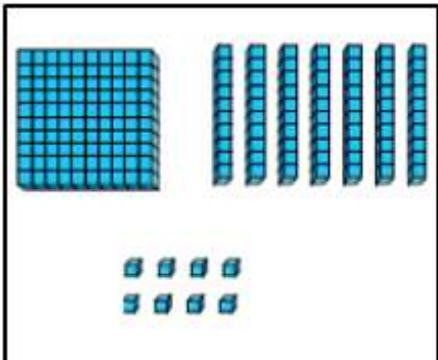
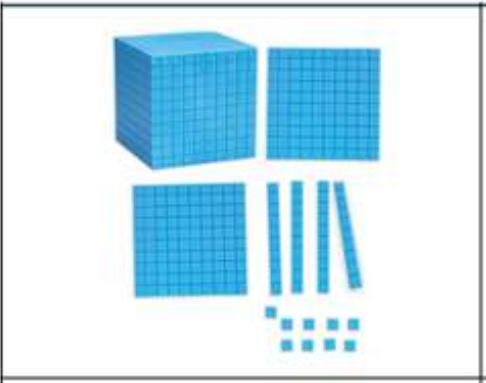
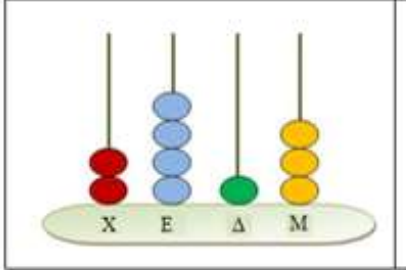


TEST DE EVALUARE A CLASEI A-III-A
(Pentru copiii care frecventează clasa a-IV-a)


1	<p>Trasați liniile corespunzătoare.</p> <div style="display: flex; flex-direction: column; align-items: center;"> <div style="border: 1px solid black; padding: 10px; margin-bottom: 10px;">  </div> <div style="border: 1px solid black; padding: 10px; margin-bottom: 10px;">  </div> <div style="border: 1px solid black; padding: 10px; margin-bottom: 10px;">  </div> <div style="border: 1px solid black; padding: 10px;">  </div> </div>	<div style="display: flex; flex-direction: column; align-items: center; gap: 20px;"> <div style="border: 1px solid black; padding: 10px; width: 150px; height: 50px; text-align: center;">871</div> <div style="border: 1px solid black; padding: 10px; width: 150px; height: 50px; text-align: center;">32</div> <div style="border: 1px solid black; padding: 10px; width: 150px; height: 50px; text-align: center;">23</div> <div style="border: 1px solid black; padding: 10px; width: 150px; height: 50px; text-align: center;">178</div> <div style="border: 1px solid black; padding: 10px; width: 150px; height: 50px; text-align: center;">1249</div> <div style="border: 1px solid black; padding: 10px; width: 150px; height: 50px; text-align: center;">1413</div> <div style="border: 1px solid black; padding: 10px; width: 150px; height: 50px; text-align: center;">9421</div> </div>
---	--	---

2	<p>Completează.</p> <p>$475 < 46 \square$ $2887 > \square 887$</p>
3	<p>Așază numerele în ordine, începând de la cel mai mic.</p> <p>47 51 25 54</p> <p>$\square < \square < \square < \square$</p>
4	<p>Completează.</p> <p>$10 + 3 = \square$ $3 + 5 = \square$ $9 - 6 = \square$</p> <p>$15 - 4 = \square$ $10 + \square = 16$ $14 + \square = 18$</p> <p>$17 - 3 = \square$ $18 - \square = 13$ $17 = 12 + \square$</p> <p>$33 + 25 = \square$ $45 + 18 = \square$ $43 - 9 = \square$</p>
5	<p>Puneți X unde este greșeala.</p> <p style="text-align: center;">3420</p> <p>A. $3000 + 400 + 20$ B. $3000 + 420$</p> <p>C. $3000 + 400 + 20$ D. $3400 + 0$</p>


6 Completează.

$6 \times 3 = \square$ $4 \times 5 = \square$ $30 \div \square = 3$
 $42 \div 6 = \square$ $7 \times 8 = \square$ $\square \times 8 = 0$
 $2 \times 30 = \square$ $40 \times 6 = \square$ $4 \times 300 = \square$
 $7 \times 9 = \square$ $6 \times \square = 54$ $\square \div 8 = 4$

7 Completează rubricile.



πηλίκο και
υπόλοιπο













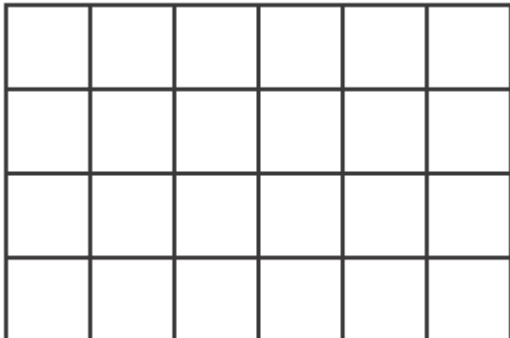
rezultatul împărțirii și restul

8 Câți bani sunt în portofel?



Răspuns

9	<p>Găsește răspunsul.</p> <table style="width: 100%; text-align: center;"> <tr> <td>$+ 456$</td> <td>$+ 659$</td> <td>$- 637$</td> <td>$\times 23$</td> </tr> <tr> <td><u>342</u></td> <td><u>184</u></td> <td><u>219</u></td> <td><u>9</u></td> </tr> </table>	$+ 456$	$+ 659$	$- 637$	$\times 23$	<u>342</u>	<u>184</u>	<u>219</u>	<u>9</u>
$+ 456$	$+ 659$	$- 637$	$\times 23$						
<u>342</u>	<u>184</u>	<u>219</u>	<u>9</u>						
10	<p>Rezolvă problema.</p> <p>Sâmbătă au mers în parc 234 oameni. Duminică au mers în parc cu 124 mai mulți oameni.</p> <p>Câți oameni au mers în parc duminică?</p> <div style="text-align: right; border: 1px solid black; padding: 5px; width: 250px; margin: 10px auto;">Răspuns</div> <p>Câți oameni au mers în parc în weekend?</p> <div style="text-align: right; border: 1px solid black; padding: 5px; width: 250px; margin: 10px auto;">Răspuns</div>								
11	<p>Află perimetrul.</p> <div style="text-align: center; margin: 20px 0;">  </div> <p style="text-align: right;">Perimetrul: cm</p>								

12	<p>Ce număr va apărea dacă se continuă șirul?</p> <p>250, 500, 750, 1000, 1250,.....</p>
13	<p>Trasează liniile corespunzătoare.</p> <div style="display: flex; justify-content: space-around; align-items: center;"> <div style="text-align: center;">  <p>9:30</p> </div> <div style="text-align: center;">  <p>4:10</p> </div> <div style="text-align: center;">  <p>8:45</p> </div> <div style="text-align: center;">  <p>9:40</p> </div> </div>
14	<p>În care formă geometrică este colorată $\frac{2}{3}$ din suprafață? Încercuiește-o.</p> <p>ABC DE</p> <div style="display: flex; justify-content: space-around; align-items: center;">      </div>
15	<p>Care este suprafața dreptunghiului? Încercuiește operația matematică corespunzătoare.</p> <div style="display: flex; align-items: center;">  <div> <p>A. 4×6</p> <p>B. $4 + 6$</p> <p>Γ. $4 \times 4 \times 6 \times 6$</p> <p>D. $4 + 4 + 6 + 6$</p> </div> </div>

16

Care dintre cele de mai jos poate fi egală cu 20 cm?

A. Înălțimea pisicii



B. Lungimea autoturismului



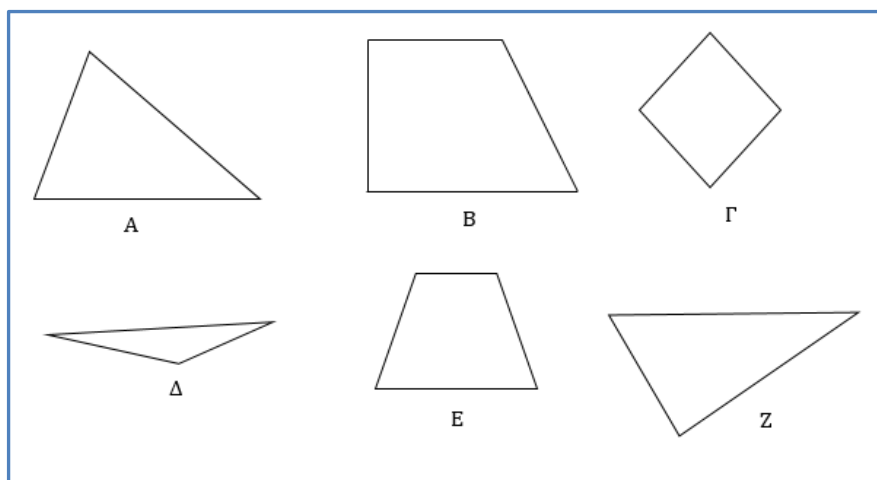
C. Lungimea terenului.



D. Distanța dintre două școli



17



(I) Încercuiește triunghiurile.

(II) Încercuiește propoziția corectă.


A. forma are trei laturi





B. forma are un unghi drept

C. forma are laturi egale

D. forma are unghiuri egale

18 Reprezentarea grafică arată merele pe care le adună Christos în fiecare zi.

fiecarec  unde la 10 mere

luni	
marți	
miercuri	
joi	

În ce zi a adunat Christos 15 mere?

- (a) luni
- (b) marți
- (c) miercuri
- (d) joi

Dr. Marilena Pantziara
Funcționară la Institutul Pedagogic