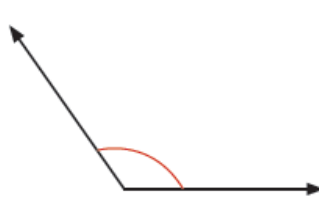
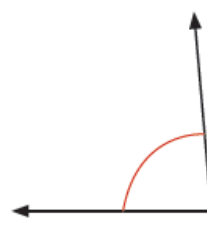
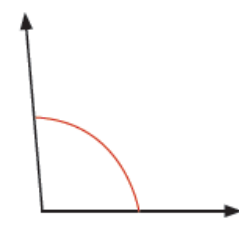


ΔΟΚΙΜΙΟ Ε' ΤΑΞΗΣ

(Για τα παιδιά που θα φοιτήσουν στη Στ' τάξη)

<p>1</p>	<p>Να βρεις την απάντηση.</p> $458 + 221 =$ $2568 + 1359 =$ $678 - 553 =$ $5899 - 3400 =$ $8 \times 6 =$ $6 \times 7 =$ $36 \div 9 =$ $56 \div 7 =$ $50 \times 500 =$ $80 \times 60 =$ $2100 \div 70 =$ $36\ 000 \div 900 =$
<p>2</p>	<p>Να βρεις την απάντηση.</p> $\begin{array}{r} 317 \\ 58 + \\ \hline \end{array}$ $\begin{array}{r} 624 \\ 357 - \\ \hline \end{array}$ $\begin{array}{r} 269 \\ 7 \times \\ \hline \end{array}$ $\begin{array}{r} 384 \\ \times 45 \\ \hline \end{array}$ $\begin{array}{r} 409 \\ 5 \\ \hline \end{array}$ $\begin{array}{r} 178 \\ 25 \\ \hline \end{array}$
<p>3</p>	<p>Να συγκρίνεις τα κλάσματα χρησιμοποιώντας το κατάλληλο σύμβολο ($<$, $>$, $=$).</p> <p>(α) $\frac{5}{8} \bigcirc \frac{6}{8}$ (β) $\frac{5}{6} \bigcirc \frac{5}{8}$ (γ) $\frac{6}{12} \bigcirc \frac{5}{9}$</p>

4	<p>Να συγκρίνεις τους δεκαδικούς αριθμούς χρησιμοποιώντας τα σύμβολα ($<$, $>$, $=$).</p> <p>1,12 <input type="text"/> 1,2 0,053 <input type="text"/> 0,5 0,380 <input type="text"/> 0,38</p>
5	<p>Να αντιστοιχίσεις.</p> <ul style="list-style-type: none"> <li style="width: 50%;">• $\frac{1}{2} =$ <li style="width: 50%;">• 0,28 <li style="width: 50%;">• $\frac{14}{50} =$ <li style="width: 50%;">• 0,50 <li style="width: 50%;">• $\frac{1}{4} =$ <li style="width: 50%;">• 0,4 <li style="width: 50%;">• 0,25
6	<p>Να βάλεις σε κύκλο το σωστό.</p> <div style="display: flex; justify-content: space-around; align-items: flex-start;"> <div style="text-align: center;">  <div style="border: 1px solid green; border-radius: 10px; padding: 5px; width: fit-content; margin: 10px auto;"> <p>A. 85°</p> <p>B. 90°</p> <p>Γ. 135°</p> </div> </div> <div style="text-align: center;">  <div style="border: 1px solid green; border-radius: 10px; padding: 5px; width: fit-content; margin: 10px auto;"> <p>A. 5°</p> <p>B. 85°</p> <p>Γ. 105°</p> </div> </div> <div style="text-align: center;">  <div style="border: 1px solid green; border-radius: 10px; padding: 5px; width: fit-content; margin: 10px auto;"> <p>A. 75°</p> <p>B. 90°</p> <p>Γ. 95°</p> </div> </div> </div>
7	<p>Να λύσεις το πρόβλημα. Να βάλεις σε κύκλο την ορθή απάντηση.</p> <p>Ο Χάρης έχει €10. Αγόρασε ένα χυμό που στοίχιζε €2,50 και ένα σάντουιτς που στοίχιζε €3,85. Πόσα χρήματα του έμειναν;</p> <p>A. €3,65 B. €4,75 Γ. €6,35 Δ. €16,35</p>

8 Να υπολογίσεις το αποτέλεσμα.

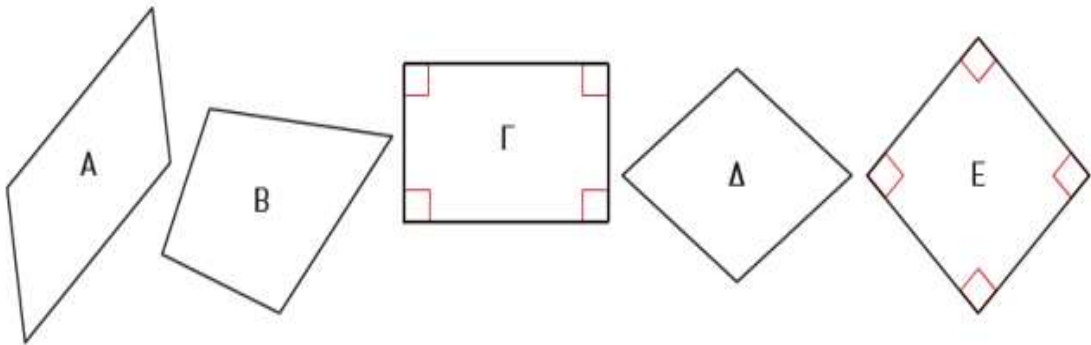
$$\frac{1}{2} + \frac{2}{10} =$$

$$\frac{5}{12} - \frac{1}{3} =$$

$$2 + 3,5 + 4,789 =$$

$$5,37 - 1,9 =$$

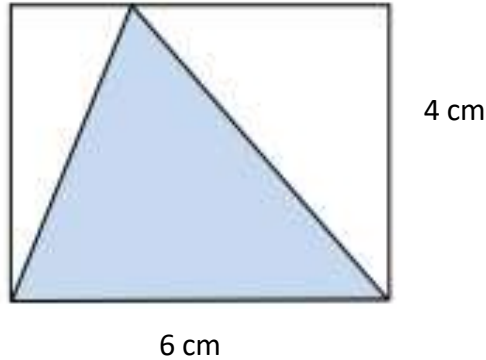
9 Να βάλεις σε κύκλο το σωστό.



- A. Το σχήμα Α και το σχήμα Δ είναι ορθογώνια
- B. Το σχήμα Δ και το σχήμα Ε είναι ορθογώνια
- Γ. Το σχήμα Β και το σχήμα Γ είναι ορθογώνια
- Δ. Το σχήμα Γ και το σχήμα Ε είναι ορθογώνια
- Ε. Το σχήμα Α είναι ρόμβος και το σχήμα Γ είναι ορθογώνιο

10

Να βρεις:
(I) το εμβαδόν του ορθογωνίου
(II) το εμβαδόν του τριγώνου.



Εμβαδόν ορθογωνίου:

Εμβαδόν τριγώνου:

11 Να επιλύσεις το πρόβλημα.

Ένα ταξιδιωτικό γραφείο ανέλαβε να μεταφέρει 159 τουρίστες με οχήματα. Κάθε όχημα μεταφέρει μέχρι 9 επιβάτες. Πόσα οχήματα χρειάζονται;

Απάντηση:

12 Να βρεις από πόσα τρίγωνα και τετράγωνα θα αποτελείται το 8ο σχήμα.

(a)

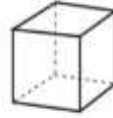
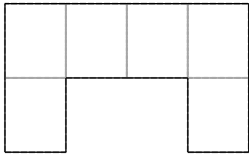


Απάντηση:


13

Σε κάθε ανάπτυγμα και στερεό σχήμα, να βάλεις σε κύκλο αυτά που είναι ορθά

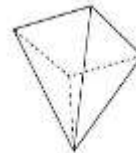
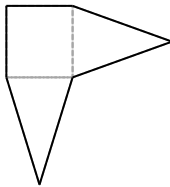
(α)



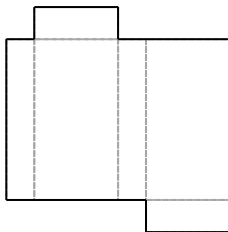
(β)



(γ)



(δ)



14 Να λύσεις το πρόβλημα.

Η Ιωάννα παρακολουθεί μια ταινία στις 9:00 μ.μ. Η ταινία τελειώνει σε 70 λεπτά. Τι ώρα θα τελειώσει;

Απάντηση:

15 Πόσα γραμμάρια ζυγίζουν τα λαχανικά; Να βάλεις σε κύκλο την ορθή απάντηση.



A. 65 g

B. 650 g

Γ. 6500g

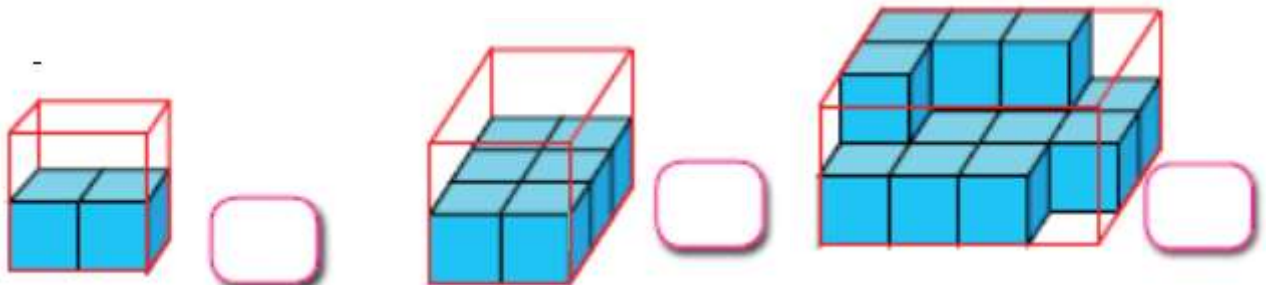
Δ. 6,50 g

16 Να λύσεις το πρόβλημα.

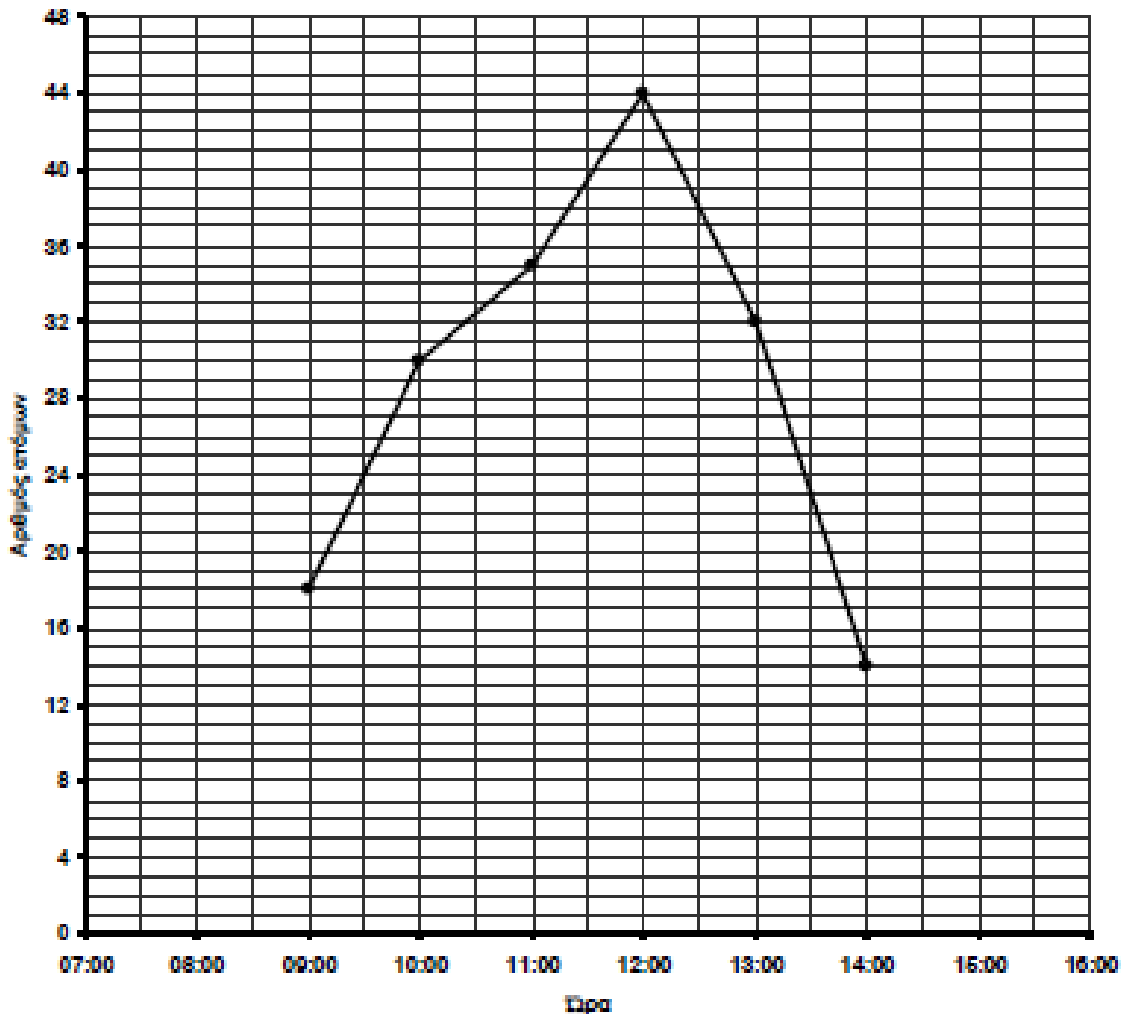
Σε ένα κουτί υπάρχουν 36 βόλοι. Τα $\frac{2}{9}$ είναι πράσινοι, το $\frac{1}{3}$ είναι μπλε και οι υπόλοιποι είναι κίτρινοι. Πόσους βόλους από κάθε χρώμα έχει μέσα στο κουτί;

Απάντηση:

17 Πόσους κύβους χωρεί το κάθε κουτί;



18 Η πιο κάτω γραφική παράσταση δείχνει τον αριθμό των ατόμων που επισκέφθηκαν ένα ζωολογικό κήπο, ο οποίος ανοίγει στις 7:00π.μ. και κλείνει στις 16:00.



(α) Πόσοι επισκέφθηκαν το ζωολογικό κήπο η ώρα 10:00π.μ.;

(β) Πόσοι επισκέφθηκαν το ζωολογικό κήπο η ώρα 8:00π.μ.;

(γ) Πόσοι περισσότεροι επισκέφθηκαν τον ζωολογικό κήπο στις 12:00 από ότι στις 11:00π.μ.;