


ТЕСТ - ПЪРВИ КЛАС

(За деца, които ще учат във втори клас)

1 Преброй и попълни кутийките.

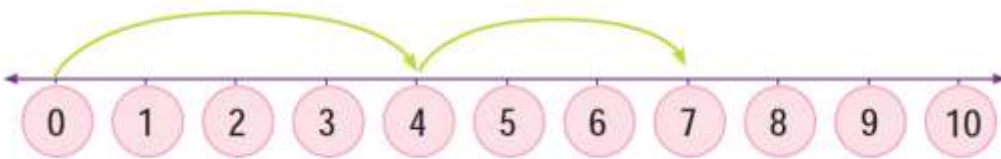


○ = ★ =

2 Огради с кръг верния отговор както в примера.


с 1 по-малко		по-голямо с 1
13 16 19	17	18 16 19
12 17 14	13	19 14 16


3 Огради с кръг уравнението, което съответства на линията.


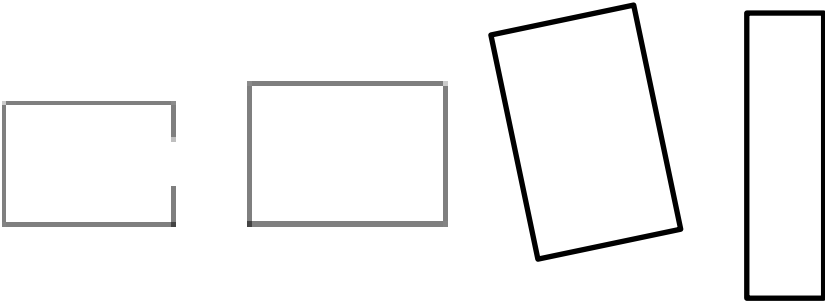






















































_____ + _____ = _____

A. Б. В.

<p>4</p>	<p>Κολко е часът? Огради с кръг верния отговор.</p>  <p>A. 12:00 Б. 3:00 В. 12:15 Г. 3:12</p>
<p>5</p>	<p>Попълни квадратчетата.</p> $0 + 6 = 6$ $1 + \square = 6$ $\square + 4 = 6$ $3 + \square = 6$ $2 + \square = 6$ $\square + 9 = 10$ $3 + \square = 10$ $\square + 5 = 10$ $\square + \square = 10$
<p>6</p>	<p>Извърши действията.</p> $3 + 5 = \square$ $10 + 3 = \square$ $9 - 6 = \square$ $15 - 4 = \square$ $10 + \square = 16$ $14 + \square = 18$

7	<p>Πομπάλνι μολελα на послелователност.</p> <table border="1" data-bbox="225 293 799 376"> <tr> <td>5</td> <td>10</td> <td></td> <td></td> <td></td> <td>30</td> </tr> </table> <table border="1" data-bbox="225 414 799 497"> <tr> <td></td> <td>4</td> <td>6</td> <td></td> <td></td> <td>12</td> </tr> </table> <table border="1" data-bbox="225 533 799 616"> <tr> <td></td> <td></td> <td></td> <td>40</td> <td>50</td> <td>60</td> </tr> </table>	5	10				30		4	6			12				40	50	60
5	10				30														
	4	6			12														
			40	50	60														
8	<p>Напиши числото, което показват кубчетата.</p>  <div data-bbox="1015 943 1457 1048" style="border: 1px solid black; padding: 5px; width: fit-content; margin-left: auto;"> <p>Отговор</p> </div>																		
9	<p>Ποσταви в послелователна поредица числата 12, 7, 19, 3, като започнеш от най-малкото.</p> <div style="display: flex; align-items: center; justify-content: center; gap: 20px;"> <div data-bbox="336 1301 491 1420" style="text-align: center;"> <p>μικρότερος най-малкото</p> </div> <div data-bbox="544 1227 1034 1317" style="display: flex; gap: 10px;"> <div style="border: 1px solid blue; width: 40px; height: 40px;"></div> <div style="border: 1px solid blue; width: 40px; height: 40px;"></div> <div style="border: 1px solid blue; width: 40px; height: 40px;"></div> <div style="border: 1px solid blue; width: 40px; height: 40px;"></div> </div> <div data-bbox="1070 1301 1257 1420" style="text-align: center;"> <p>μεγαλύτερος най-голямото</p> </div> </div>																		
10	<p>Κολκο пари има Андреас?</p>  <div data-bbox="1038 1899 1481 1995" style="border: 1px solid black; padding: 5px; width: fit-content; margin-left: auto;"> <p>Отговор</p> </div>																		

11	<p>Реши задачата.</p> <p>Янис имал 6 риби. После той купува още 3 риби. Колко риба има той сега?</p> <div data-bbox="804 573 1469 674" style="border: 1px solid black; padding: 5px; text-align: center;">Отговор</div>
12	<p>Осем деца играят в парка. 6 от тях пият сок. Колко деца не пият сок?</p> <div data-bbox="804 848 1469 949" style="border: 1px solid black; padding: 5px; text-align: center;">Отговор</div>
13	<p>Постави знака \checkmark в триъгълниците.</p> <div data-bbox="245 1151 1382 1375" style="text-align: center;">  </div>
14	<p>Постави знака \checkmark в правоъгълниците.</p> <div data-bbox="426 1644 1254 1944" style="text-align: center;">  </div>

15	<p>Попълни математическите уравнения, за да намериш колко са всички гуми.</p>  $\square + \square + \square = \square$ $\square \times \square = \square$																								
16	<p>Извърши действията.</p> $6 \times 0 = \square \quad 10 : 2 = \square \quad 4 \times 2 = \square$ $1 \times 7 = \square \quad 3 \times 3 = \square \quad 4 : 2 = \square$																								
17	<p>Отговори според графиката.</p> <p>Сладоледът, който ми харесва</p> <table border="1" data-bbox="245 1308 1337 1576"> <tr> <td>ягода</td> <td></td> <td></td> <td></td> <td></td> <td></td> <td></td> <td></td> </tr> <tr> <td>ванилия</td> <td></td> <td></td> <td></td> <td></td> <td></td> <td></td> <td></td> </tr> <tr> <td>шоколад</td> <td></td> <td></td> <td></td> <td></td> <td></td> <td></td> <td></td> </tr> </table> <p>1. Кой сладолед харесват повечето деца? _____</p> <p>2. Колко деца харесват ягодата и колко харесват шоколада? _____</p>	ягода								ванилия								шоколад							
ягода																									
ванилия																									
шоколад																									

Д-р Марилена Панджара

Длъжностно лице в Педагогическия институт