


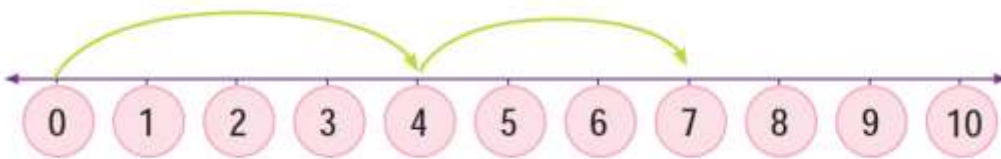



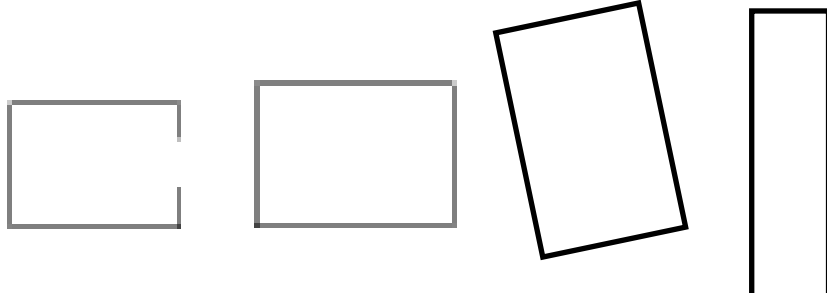


































































TEST DE EVALUARE A CLASEI I-A

(Pentru copiii care vor frecventa clasa a-II-a)

1	<p>Numără și completează.</p>  <div style="display: flex; justify-content: space-around; align-items: center;"> <div style="text-align: center;">  = <input style="width: 50px; height: 40px; border: 1px solid black;" type="text"/> </div> <div style="text-align: center;">  = <input style="width: 50px; height: 40px; border: 1px solid black;" type="text"/> </div> </div>									
2	<p>Încercuiește ca în exemplu.</p> <table border="1" style="width: 100%; border-collapse: collapse; text-align: center;"> <thead> <tr> <th style="width: 33%;">cu 1 mai puțin</th> <th style="width: 33%;"></th> <th style="width: 33%;">cu 1 mai mult</th> </tr> </thead> <tbody> <tr> <td>13 16 19</td> <td>17</td> <td>18 16 19</td> </tr> <tr> <td>12 17 14</td> <td>13</td> <td>19 14 16</td> </tr> </tbody> </table>	cu 1 mai puțin		cu 1 mai mult	13 16 19	17	18 16 19	12 17 14	13	19 14 16
cu 1 mai puțin		cu 1 mai mult								
13 16 19	17	18 16 19								
12 17 14	13	19 14 16								
3	<p>Încercuiește operația matematică care corespunde liniei aritmetice.</p>  <div style="text-align: center; margin-top: 10px;"> + = </div> <p>A.</p> <div style="display: flex; justify-content: space-around; margin-top: 10px;"> <div style="border: 1px solid black; padding: 5px; width: 200px; text-align: center;">4 + 7 = 11</div> <div style="border: 1px solid black; padding: 5px; width: 200px; text-align: center;">4 + 3 = 7</div> <div style="border: 1px solid black; padding: 5px; width: 200px; text-align: center;">0 + 4 + 7 = 11</div> </div>									

7	<p>Completează șirurile.</p> <table border="1" data-bbox="210 295 783 376"> <tr> <td>5</td> <td>10</td> <td></td> <td></td> <td></td> <td>30</td> </tr> </table> <table border="1" data-bbox="210 416 783 497"> <tr> <td></td> <td>4</td> <td>6</td> <td></td> <td></td> <td>12</td> </tr> </table> <table border="1" data-bbox="210 533 783 613"> <tr> <td></td> <td></td> <td></td> <td>40</td> <td>50</td> <td>60</td> </tr> </table>	5	10				30		4	6			12				40	50	60
5	10				30														
	4	6			12														
			40	50	60														
8	<p>Scrive numărul pe care îl arată cuburile.</p>  <div data-bbox="1002 949 1445 1048" style="border: 1px solid black; padding: 5px; width: fit-content; margin-left: auto;">Răspuns</div>																		
9	<p>Așază în ordine numerele 12, 7, 19, 3, începând de la cel mai mic.</p> <div style="display: flex; align-items: center; justify-content: center; gap: 20px;"> <div data-bbox="322 1317 475 1352">μικρότερος</div> <div data-bbox="529 1240 1018 1330" style="display: flex; gap: 10px;"> <div style="border: 1px solid blue; width: 40px; height: 40px;"></div> <div style="border: 1px solid blue; width: 40px; height: 40px;"></div> <div style="border: 1px solid blue; width: 40px; height: 40px;"></div> <div style="border: 1px solid blue; width: 40px; height: 40px;"></div> </div> <div data-bbox="1056 1326 1232 1361">μεγαλύτερος</div> </div> <p>cel mai mic cel mai mare</p>																		
10	<p>Câți bani are Andreas?</p>  <div data-bbox="1024 1899 1465 1998" style="border: 1px solid black; padding: 5px; width: fit-content; margin-left: auto;">Răspuns</div>																		

11	<p>Rezolvă problema.</p> <p>Giannis avea 6 pești. El a cumpărat încă 3 pești. Câți pești are acum?</p> <div style="text-align: right; border: 1px solid black; padding: 5px; width: fit-content; margin-left: auto;">Răspuns</div>
12	<p>Opt copii sunt la joacă în parc. 6 copii beau suc. Câți copii nu beau suc?</p> <div style="text-align: right; border: 1px solid black; padding: 5px; width: fit-content; margin-left: auto;">Răspuns</div>
13	<p>Pune ✓ în dreptul triunghiurilor.</p> <div style="text-align: center; margin-top: 20px;">  </div>
14	<p>Pune ✓ în dreptul dreptunghiurilor.</p> <div style="text-align: center; margin-top: 20px;">  </div>

15	<p>Completează operațiile matematice ca să găsești numărul total al roților.</p> <div style="text-align: center;">  </div> <div style="text-align: center;"> $\square + \square + \square = \square$ $\square \times \square = \square$ </div>																								
16	<p>Efectuează operațiile.</p> <div style="display: flex; justify-content: space-around; align-items: flex-start;"> <div style="text-align: center;"> $6 \times 0 = \square$ $1 \times 7 = \square$ </div> <div style="text-align: center;"> $10 : 2 = \square$ $3 \times 3 = \square$ </div> <div style="text-align: center;"> $4 \times 2 = \square$ $4 : 2 = \square$ </div> </div>																								
17	<p>Răspunde în funcție de reprezentarea grafică.</p> <p style="text-align: center;">Înghetața care îmi place</p> <table border="1" style="width: 100%; border-collapse: collapse;"> <tr> <td style="width: 20%; text-align: center;">căpșuni</td> <td style="text-align: center;"></td> <td style="text-align: center;"></td> <td style="text-align: center;"></td> <td style="text-align: center;"></td> <td style="text-align: center;"></td> <td style="text-align: center;"></td> <td style="text-align: center;"></td> </tr> <tr> <td style="text-align: center;">vanilie</td> <td style="text-align: center;"></td> <td style="text-align: center;"></td> <td style="text-align: center;"></td> <td style="text-align: center;"></td> <td style="text-align: center;"></td> <td style="text-align: center;"></td> <td style="text-align: center;"></td> </tr> <tr> <td style="text-align: center;">ciocolată</td> <td style="text-align: center;"></td> <td style="text-align: center;"></td> <td style="text-align: center;"></td> <td style="text-align: center;"></td> <td style="text-align: center;"></td> <td style="text-align: center;"></td> <td style="text-align: center;"></td> </tr> </table> <p>1. Care înghețată place la cei mai mulți copii? _____</p> <p>2. La câți copii le place înghețata de căpșuni și înghețata de ciocolată? _____</p>	căpșuni								vanilie								ciocolată							
căpșuni																									
vanilie																									
ciocolată																									

Dr. Marilena Pantziara

Funcționară la Institutul Pedagogic