

Ένα ταξίδι στην Ευρωπαϊκή Ένωση




ΕΝΟΤΗΤΑ ΣΤΗΝ ΠΟΛΥΜΟΡΦΙΑ

Όνομα: _____

Α' Τάξη

Εκπαιδευτικός: Νικολέττα Χατζηγιώργα
Δημοτικό Σχολείο Φρενάρου

Τα σύμβολα της Ευρωπαϊκής Ένωσης:



◆ Η Ευρωπαϊκή _____



◆ Ο Ευρωπαϊκός _____


Η ΚΥΠΡΟΣ ΣΤΗΝ ΕΥΡΩΠΗ

Γίνε δημοσιογράφος και γράψε ένα μικρό άρθρο
τι μπορεί να προβάλει η Κύπρος στην Ευρώπη.

ΤΑΞΙΔΙ ΣΤΗΝ Ε.Ε.

Γράψε ποιες Ευρωπαϊκές χώρες έχεις επισκεφτεί.

Με όσα έμαθες, ποιες χώρες ή πόλεις θα ήθελες να ταξιδέψεις στην Ε.Ε. και γιατί;



◆ Το _____:

Ενωμένοι στην _____



◆ Ημέρα της Ευρώπης: _____

Γενικές πληροφορίες χώρες της Ευρωπαϊκής Ένωσης:

Επιλέγω το σωστό:

◆ Μέχρι σήμερα οι χώρες της Ε.Ε είναι:

1. 23
2. 27
3. 24




◆ Οι επίσημες γλώσσες όμως γλώσσες είναι:

1. 27
2. 25
3. 23



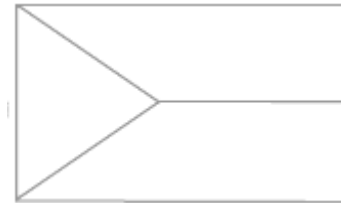
Χρωμάτισε σωστά την κάθε σημαία.



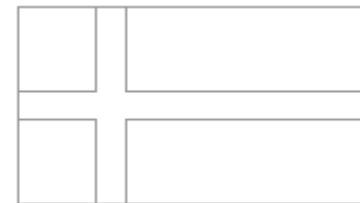
Βέλγιο



Βουλγαρία



Τσεχία



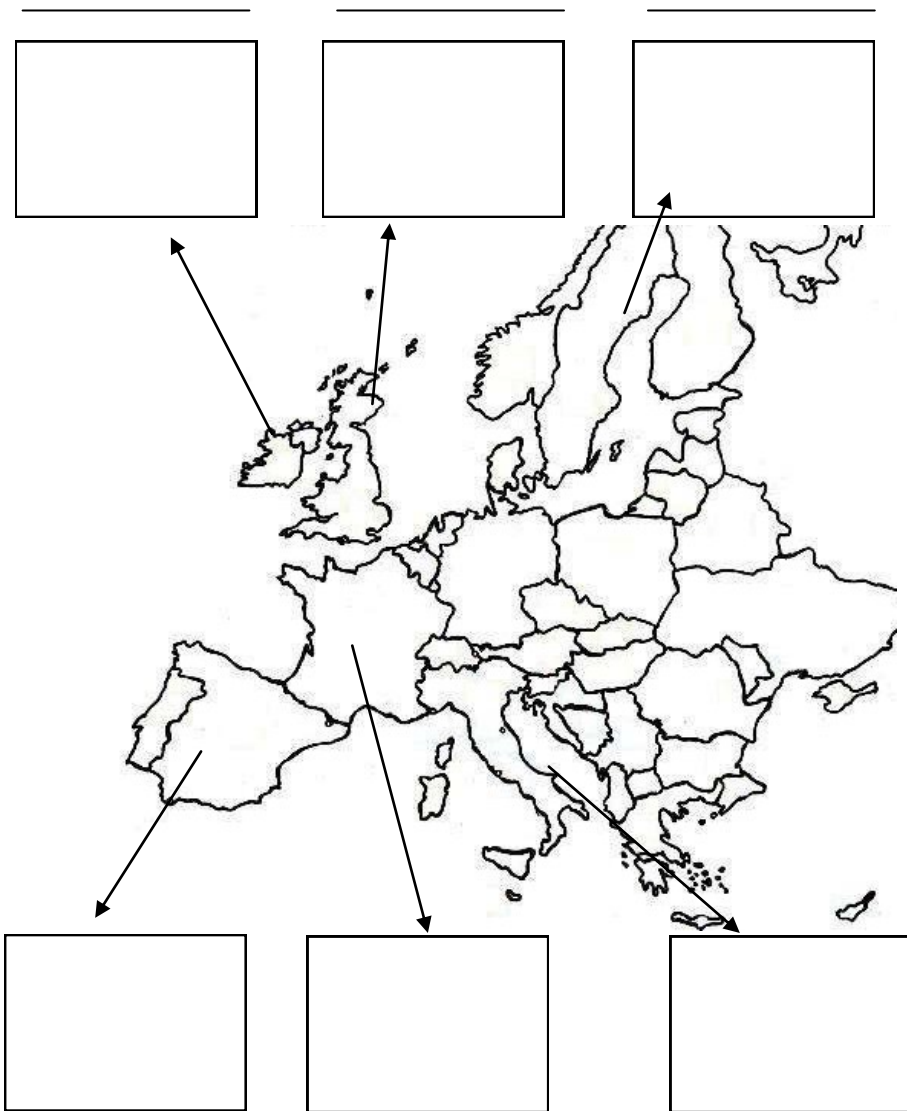
Δανία



Γερμανία

ΟΙ ΣΗΜΑΙΕΣ ΤΗΣ Ε.Ε.

Κόλλησε τις σημαίες και γράψε τις χώρες.



◆ Η Κύπρος εντάχθηκε στην Ευρωπαϊκή Ένωση:

1. 1η Μαΐου 2010
2. 1η Μαΐου 2004
3. 1η Μαρτίου 2004



◆ Φέτος τον Ιούλιο την προεδρία θα την έχει:

1. Κύπρος
2. Ελλάδα
3. Αγγλία



Βρες το αξιοθέατο της κάθε χώρας, βάζοντας στον κύκλο το σωστό αριθμό.

◆ Η πιο μεγάλη χώρα της ΕΕ σε έκταση είναι:

1. Γερμανία



2. Αγγλία




3. Γαλλία



◆ Η πιο μικρή σε έκταση είναι:

1. Μάλτα



2. Κύπρος



3. Λουξεμβούργο



(1) Αγγλία (2) Δανία (3) Ολλανδία (4) Γερμανία
(5) Βέλγιο (6) Γαλλία (7) Τσεχία (8) Ρουμανία
(9) Βουλγαρία (10) Ελλάδα (11) Ιταλία (12) (13) Ισπανία



ΟΙ ΠΡΩΤΕΥΟΥΣΕΣ ΤΗΣ Ε.Ε.

Επιλέγω τη σωστή πρωτεύουσα της κάθε χώρας.

- ◆ **Ελλάδα:** Ρώμη, Αθήνα, Λευκωσία
- ◆ **Κύπρος:** Παρίσι, Σόφια, Λευκωσία
- ◆ **Γαλλία:** Παρίσι, Λονδίνο, Μαδρίτη
- ◆ **Ιταλία:** Πράγα, Ρώμη, Βουκουρέστι
- ◆ **Ισπανία:** Μαδρίτη, Βερολίνο, Βιέννη
- ◆ **Αγγλία:** Βιέννη, Λισσαβόνα, Λονδίνο
- ◆ **Βέλγιο:** Βρυξέλλες, Βιέννη, Βερολίνο
- ◆ **Γερμανία:** Ρώμη, Βερολίνο, Δουβλίνο
- ◆ **Βουλγαρία:** Σόφια, Αθήνα, Ρώμη

- ◆ Η Κύπρος σε έκταση κατέχει την:

1. 25η θέση
2. 27η θέση
3. 3η θέση



- ◆ Η Ελλάδα όμως σε έκταση κατέχει την:

1. 11η θέση
2. 1η θέση
3. 10η θέση



Ευρώ: Ενιαίο Ευρωπαϊκό Νόμισμα

Σημείωσε (Σ) για τα ΣΩΣΤΑ και (Λ) για τα ΛΑΘΟΣ



1. Όλες οι χώρες της ΕΕ έχουν το ευρώ ως νόμισμα.
2. Η Κύπρος είχε από πάντα το ευρώ
3. Την 1η Ιανουαρίου 2008 η Κύπρος ένταξε το ευρώ ως νόμισμά της.
4. Όταν ταξιδεύεις στην Αγγλία μπορείς να ψωνίσεις εκεί με ευρώ.
5. Τα χαρτονομίσματα του ευρώ είναι τα ίδια.
6. Τα κέρματα και από τις δύο πλευρές είναι τα ίδια.



♦ Παροχή βοήθειας σε
φ_____ χ_____.



♦ Παροχή βοήθειας για
κ_____



♦ Διατήρηση της ει_____.

ΟΙ ΔΡΑΣΤΗΡΙΟΤΗΤΕΣ ΤΗΣ Ε.Ε.


Η Ε.Ε. προσπαθεί να βελτιώνει τη ζωή των κατοίκων της με:



◆ Προστασία του _____.



◆ Τη χρήση του κοινού _____.



◆ Την ελεύθερη διακίνηση για

σ _____, τ _____

ή ε _____ χωρίς τη

χρήση δ _____.



Ζωγράφισε με πράσινο τις χώρες που έχουν ως νόμισμα το ευρώ



Αντιστοίχισε το διαφορετικό σχέδιο
κάθε χώρας για το κέρμα του της



◆ Ελλάδα

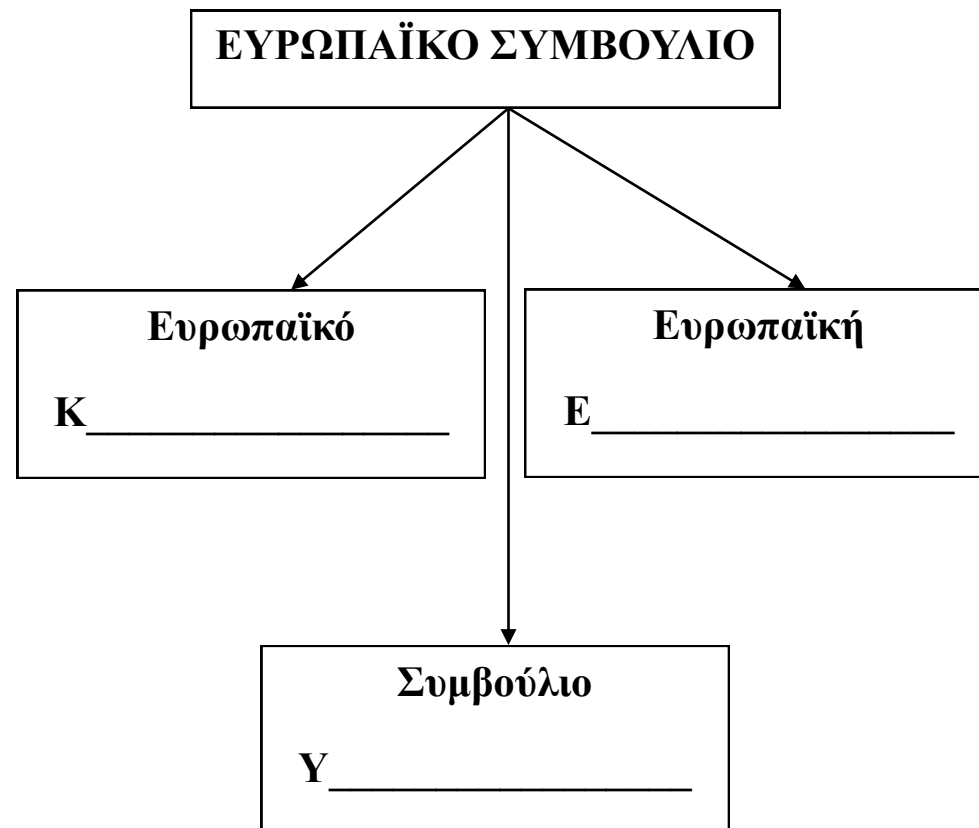
◆ Ιταλία

◆ Κύπρος


◆ Γαλλία



Ποιοι διοικούν την Ευρωπαϊκή Ένωση;



Αντιστοίχισε τις σωστές πλευρές του κάθε χαρτονομίσματος.



Γράψε την αξία του κάθε χαρτονομίσματος στο κουτάκι, και χρωμάτισέ τα με το σωστό χρώμα.

